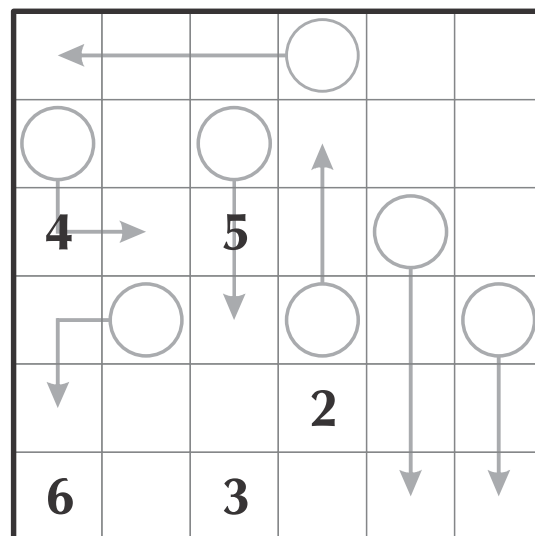




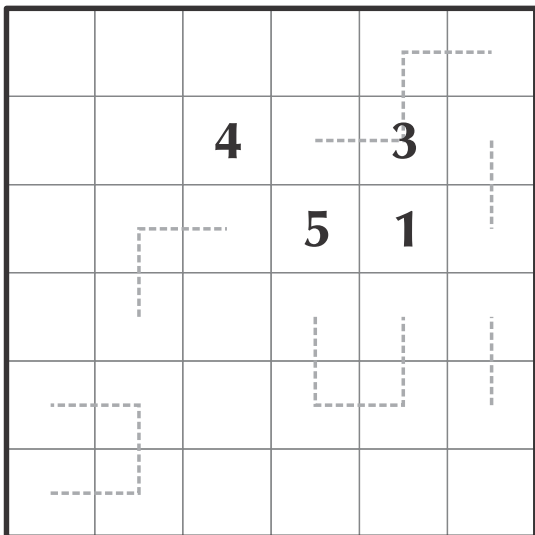
DESAFIOS JAPONESSES SECUNDARIA

FLECHAS



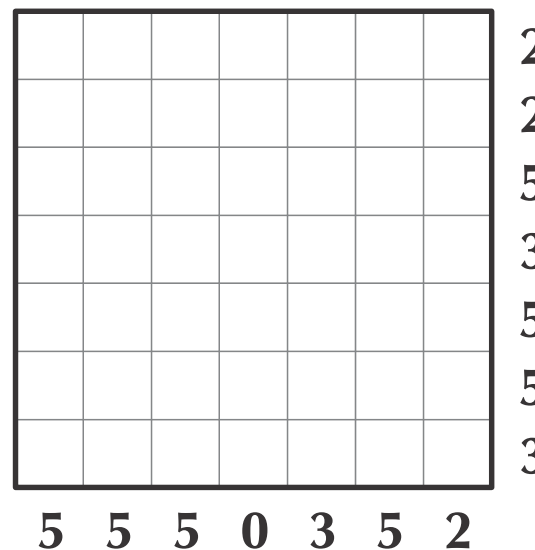
Complete el arreglo 6 x 6 de tal manera que en cada fila y en cada columna aparezcan los dígitos de 1 a 6. También aparecen en el arreglo algunas formas con flechas; la suma de los dígitos a lo largo de cada flecha debe ser igual al dígito que se encuentra en el círculo que le corresponde.

CONSECUTIVOS



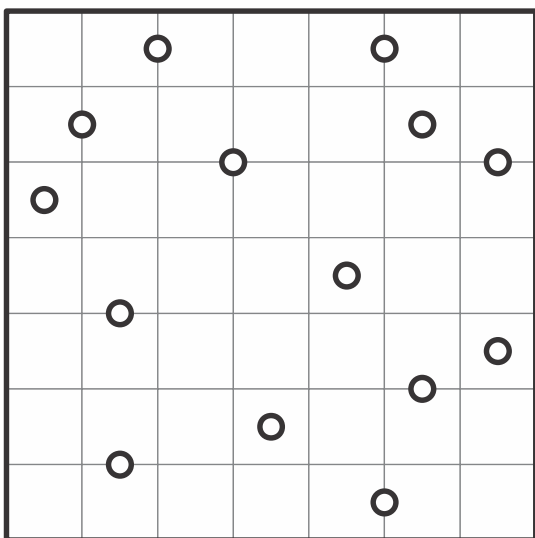
Complete el arreglo 6 x 6 de tal manera que en cada fila y en cada columna aparezcan los dígitos de 1 a 6. Además, los dígitos a lo largo de las líneas a trazos dadas deben ser consecutivos y estar ordenados.

NUBES



Sombree las casillas necesarias en el arreglo de tal manera que los números fuera del arreglo corresponden al número de casillas sombreadas en la fila o columna correspondiente. Las casillas sombreadas forman nubes rectangulares de dimensión $m \times n$, con m y n mayores o iguales que 2. Además, las nubes no tienen ningún punto de contacto común.

GALAXIAS



Divida el arreglo 7 x 7 en catorce regiones compuestas de cuadrados unitarios de tal manera que cada círculo corresponda al centro de una de estas regiones.



Fax. 244 80 56 - Tel. 340 99 61
Bogotá, D.C.

www.colombiaaprendiendo.edu.co

